




ALİ NERKİZ
DENEME SINAVLARI
(KAZANIM DEĞERLENDİRME SINAVLARI)

2. Sınıf

TÜRKİYE GENELİ

KAZANIM DEĞERLENDİRME SINAVI-1

ÖĞRENCİNİN ;
ADI SOYADI :
SINIFI : / NO:
OKULU :



TÜRKÇE TESTİ

BU BÖLÜMDE CEVAPLAYACAĞINIZ SORU SAYISI **15**'TİR. CEVAPLAMAYA İSTEDİĞİNİZ SORUDAN BAŞLAYABİLİRSİNİZ. CEVAPLARINIZI CEVAP KAĞIDININ **TÜRKÇE** BÖLÜMÜNE İŞARETLEYİNİZ. **BAŞARILAR.**

YAVRU ÖRDEK

Bir pazar sabahı zil çalınca kapıyı açmaya iki yaşındaki Buse koştu. Kapının eşiğinde sepetin içinde büzülmüş bir ördek yavrusu buldu. Hayvancık, boncuk gibi bir çift gözü ve minik gagası olan sarı bir tüy yığını halindeydi. Ördek yavrusu biraz büyüyerek sepetten çıkınca evin içinde Buse'nin peşinden ayrılmaz oldu. Küçük kız da sevincinden çılgına dönüyordu.

Not: 1. 2. ve 3. soruları metne göre cevaplayınız.

1. Buse yavru ördeği nerede buldu?

- a. Evin içinde b. Kapının eşiğinde c. Okul bahçesinde

2. Ördeği bulduğunda Buse kaç yaşındaydı?

- a. İki b. Üç c. Dört

3. Buse ördeği ne zaman bulmuş?

- a. Cuma günü b. Salı akşamı c. Pazar sabahı

4. Aşağıdaki hangi varlığın adında diğerlerinden daha fazla hece bulunmaktadır?

a.



Meyve

b.



Yumurta

c.



Saat



5.

Çocuklar, Ulus ve armağan kelimelerinin eş anlamlıları nedir?



Ahmet

Hangi çocuk Ahmet Öğretmen'e doğru cevabı vermiştir?

a.



GAMZE

b.



YAĞIZ

c.



GÜL

6. Anlamını bilmediğimiz bir kelimenin ne demek olduğunu aşağıdakilerden hangisine bakarak öğrenebiliriz?

- a. Sözlüğe bakarak öğrenebiliriz.
- b. İmla kılavuzuna bakarak öğrenebiliriz.
- c. Gazeteye bakarak öğrenebiliriz.

7.

1. kalemni

2. Ahsen

3. Nilgün'den

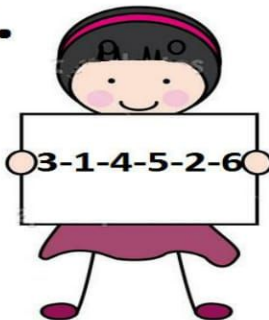
4. ödünç

5. arkadaş


6. istedi.

Yukarıdaki kelimelerle anlamlı ve kurallı bir cümle oluşturmak için aşağıdaki sıralamalardan hangisi yapılmalıdır?

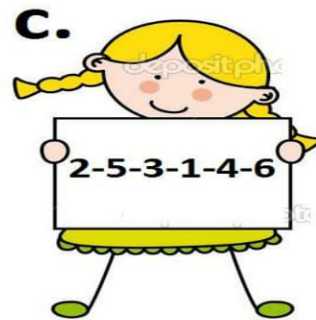
a.



b.



c.



8. Hangi kelimenin zıt anlamlısı yanlış yazılmıştır?



- a. Dost - Düşman
- b. Aşağı - Yukarı
- c. Deve - Cüce

9. “Köpeğimin ismi Karabaş.” cümlesinde altı çizili kelimenin eş anlamlısı aşağıdaki cümlelerin hangisinde kullanılmıştır?

- a. Bebeğin adını Nazlı koydular.
- b. Kedimin ismi Pamuk.
- c. Öğretmenim ismimi sordu.

10. “Polis olmak istiyorum.”

Yukarıdaki cümle kimin sorduğu sorunun cevabı olabilir?



11. Aşağıdaki kelimelerden hangisi hecelerine yanlış ayrılmıştır?

- a. Kü – tüp – ha – ne
- b. Be – le – di – ye
- c. Ko – nu – ks – ev – er

12. Aşağıdaki görsellerden hangisi zıt anlamlı değildir?

a) **Kirli**



Temiz

b)

Nehir



İrmak

c) **Gündüz**



Gece



PİNOKYO OKULA GİDİYOR

Yaşlı kuklacı, günlerce uğraşarak tahtadan bir kukla yaptı. Kuklayı bitirdiğinde çok şaşırtıcı bir şey oldu. Bu kukla konuşuyordu. Kuklacı, ona Pinokyo adını verdi.

Fakat Pinokyo çok yaramaz bir kuklaydı. Bir gün sokakta oynarken ayaklarını kırdı. Yaşlı adam, onun kırık ayaklarını güzelce onardı.

Pinokyo:-Çok teşekkür ederim babacığım, dedi. Artık uslu bir kukla olacağım. İzin verirsen okula gitmek istiyorum.

Not: 13. 14. ve 15. soruları metne göre cevaplayınız.

13. Yaşlı adam ne yapmıştır?

a. Balon

b. Kukla

c. Futbol topu

14. Pinokyo'nun ayakları ne zaman kırılmış?

a. Sokakta oynarken

b. Okula giderken

c. Babasına yardım ederken

15. Pinokyo'nun ayaklarını kim onarmış?

a. Arkadaşı

b. Kardeşi

c. Yaşlı adam

TÜRKÇE TESTİ BİTMİŞTİR.



MATEMATİK TESTİ

BU BÖLÜMDE CEVAPLAYACAĞINIZ SORU SAYISI 15'TİR. CEVAPLAMAYA İSTEDİĞİNİZ SORUDAN BAŞLAYABİLİRSİNİZ. CEVAPLARINIZI CEVAP KÂĞIDININ MATEMATİK BÖLÜMÜNE İŞARETLEYİNİZ. **BAŞARILAR.**


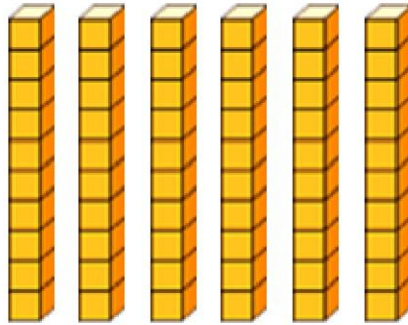
1. 9 onluk 7 birlikten oluşan sayı aşağıdakilerden hangisidir?

a. 79

b. 97

c. 16

2. Aşağıdakilerden hangisi bir deste oluşturur?



3. Yukarıda onluk taban bloklarıyla gösterilen sayı kaçtır?

a. 68

b. 14

c. 86

4. $44+35$ işleminin sonucu aşağıdakilerden hangisidir?



5. Hangi çocuğun söylediği ifade yanlıştır?

a.



78 sayısının onlar basamağının basamak değeri 70'tir.

b.



49 sayısının birler basamağının basamak değeri 90'dır.

c.



53 sayısının birler basamağının basamak değeri 3'tür.

6. Aynur pazartesi günü 32 sayfa, Salı günü 38 sayfa kitap okumuştur. Buna göre Aynur iki günde toplam kaç sayfa kitap okumuştur?

a. 69

b. 70

c. 60



7. Yandaki görsele göre Cemile, Mehmet'e istediği kitapları verirse Cemile'nin kaç kitabı kalır?

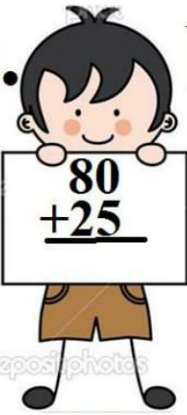

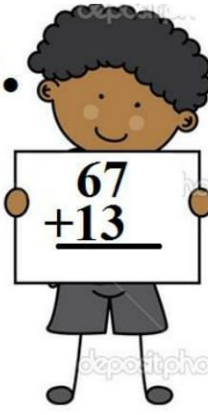
a. 25

b. 30

c. 33

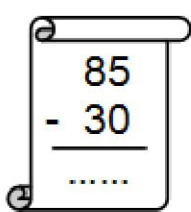
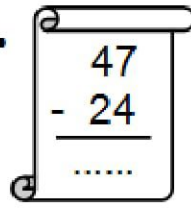
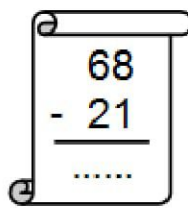


8. Aşağıdaki çocuklardan hangisinin sonucu en küçüktür?




a.  b.  c. 

SERTAN KEZBAN TUĞRUL

9. Aşağıdaki çıkarma işlemlerinden hangisinin farkı 47'dir?

a.  b.  c. 

10. Aşağıdaki ritmik sayılardan hangisinde eksik bırakılan yere 26 sayısı gelmelidir?

a.  b.  c. 

11. Ali eve bir düzine mum aldı. Kaç mum daha alsaydı 2 deste mum olurdu?

- a. 2 b. 8 c. 10



12. $37+21$ işleminin sonucunu en yakın hangi çocuk tahmin etmiştir?



13. Recep 34 liraya bir gömlek, kardeşi Şaban'a da 24 liraya bir ayakkabı aldı. Recep ne kadar ödeyeceğini bulmak için hangi işlemi yapmalıdır?

a. $34 + 24$

b. $34 - 24$

c. 34×24

14. Aşağıdaki paralardan hangisinin değeri diğerlerinden büyüktür?



- 15.

98 sayısından 4 onluk 6 birlik çıkarılırsa kaç kalır?



a. 42

b. 44

c. 52




MATEMATİK TESTİ BİTMİŞTİR.



HAYAT BİLGİSİ TESTİ

BU BÖLÜMDE CEVAPLAYACAĞINIZ SORU SAYISI **10**'DUR. CEVAPLAMAYA İSTEDİĞİNİZ SORUDAN BAŞLAYABİLİRSİNİZ. CEVAPLARINIZI CEVAP KAĞIDININ **HAYAT BİLGİSİ** BÖLÜMÜNE İŞARETLEYİNİZ. **BAŞARILAR.**

1. Aşağıdakilerden hangisinde ailede yardımlaşmaya örnek verilmiştir?

- a.  Annem yemek yaparken ben de ödevlerimi yaparım.
- b.  Annem yerleri süpürürken ben de oyuncaklarımı toplarım.
- c.  Babam kapıyı boyarken ben de televizyon izledim.




2. Yandaki görsele göre Gözde evini tarif ederken hangi ifadeyi kullanırsa yanlış olur?

- a. Evimizin kuzeyinde okul vardır.
- b. Evimizin doğusunda park vardır.
- c. Evimizin doğusunda ağaçlar vardır.



“İnsanlarla konulurken kibar olmalı ve güzel konuşmalıyız.”

3. Buna göre aşağıdakilerden hangisi doğru bir ifade değildir?

- a.  Çabuk bana kalem ver.
- b.  Arkadaşım, fazla kalemin varsa verebilir misin?
- c.  Kalemini ver yoksa seni babama söylerim.

4. Planlı ve düzenli olmak bize aşağıdakilerden hangisini kazandırır?

- a. Başarısızlık
- b. Mutluluk
- c. Üzüntü




5. Aşağıdakilerden hangisi kişisel eşyalarımızdan değildir?

a. Sınıf tahtası

b. Diş fırçası

c. Tarak



“Annemin kız kardeşi, benim olur.”

6. Yukarıdaki cümlede boş bırakılan yere aşağıdakilerden hangisi getirilmelidir?

a. halam

b. teyzem

c. amcam

7. Çeşmenin boş yere aktığını gören Akif hangisini söylerse bilinçli bir tüketici olur?

a. Nasıl olsa ben açmadım.

b. Kim açıtıysa o kapatsın. kapatmasam da olur.

c. Çeşmeyi kapatmalıyım.



8. Yandaki görsele göre Fadime tanımadığı adama hangi cevabı vermelidir?

a. Tamam, hemen geliyorum.

b. Hayır sizi tanımıyorum.

c. Bana şeker alırsanız gelirim.



9. Aşağıdaki ifadelerden hangisi yanlıştır?

a. Oyunu kazanan arkadaşımızı tebrik etmeliyiz.

b. Oyun oynarken kurallarına uymalıyız.


c. Oyunu kaybedersek bir daha oyun oynamamalıyız.

10. Yandaki görsele göre aşağıdakilerden hangisi söylenebilir?

a. Çocuklar arasında bireysel farklılıklar vardır.

b. Bütün çocuklar futbol oynamayı sever.

c. Sadece erkekler ip atlar.



HAYAT BİLGİSİ TESTİ BİTMİŞTİR.



İNGİLİZCE TESTİ

BU BÖLÜMDE CEVAPLAYACAĞINIZ SORU SAYISI **10'DUR**. CEVAPLAMAYA İSTEDİĞİNİZ SORUDAN BAŞLAYABİLİRSİNİZ. CEVAPLARINIZI CEVAP KAĞIDININ **İNGİLİZCE** BÖLÜMÜNE İŞARETLEYİNİZ. **BAŞARILAR.**

1

One

2

two

3

.....

4

four

5

five

1. Boş bırakılan yerlere aşağıdakilerden hangisi gelmelidir?

- a. seven b. three c. nine

- ## 2. What is that?

- That is a hamburger.
- That is an apple.
- That is a train.



- 3. Konuşma balonunda boş bırakılan Yere aşağıdakilerden hangisi yazılmalıdır?**

- How are you?
- I am Meral.
- Nice to meet you.



4. Yukarıda hangi seçenekteki sözcüğün görseli yoktur?

- a. Lemon b. doctor c. cake


- 5. Hangi resim yanlış ifade edilmiştir ?**

- a.**



Good Morning

- b.**



Welcome


- C.**



Good Afternoon

6. Yandaki görsele göre Kamil,
Ahmet'e Hangi soruyu sormuş olabilir?

- a. What is that?
- b. How are you?
- c. What is your name?



7. Aşağıdaki ifadelerden hangisi yandaki
görseli ifade etmektedir?

- a. Good morning.
- b. Good evening.
- c. Good afternoon.




8. Ali'ye pencereyi açması için hangisini söyleriz?

- a. Open the door.
- b. Open the window.
- c. Close the window.



9. Ayağa kalkmasını istediğimiz kişiye
hangisini söyleriz?

- a. Sit down.
- b. Turn right.
- c. Stand up




10. Aşağıdaki eşleştirmelerden hangisi yanlıştır?

a. write

b. draw

c. read



İNGİLİZCE TESTİ BİTMİŞTİR.

