

Aşağıdaki şekillerin altına doğru, ıslın veya doğru parçası olduklarını yazınız.

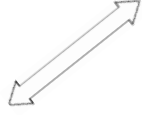
Doğruları kırmızıya, ıslınları maviye ve doğru parçasını sarıya boyayınız.



.....

.....

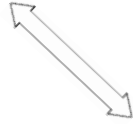
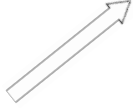

.....



.....

.....

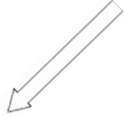
.....



.....

.....

.....




.....

.....

.....

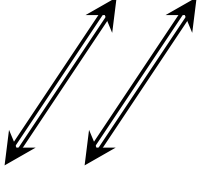
Size verilen şeklimizde yer alan doğru parçalarını belirleyelim.

Yatay doğruları kırmızıya, dikey doğruları sarıya ve eğik doğru parçaları maviye boyayınız.

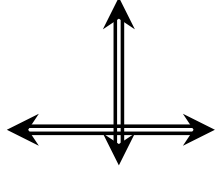


Verilen doğru(ları) önce adlandıralım. Ardından paralel doğru(ları) yeşile, kesişen doğru(ları) sarı kırmızıya, dik kesişen doğru(ları) mavi sarıya boyayınız.

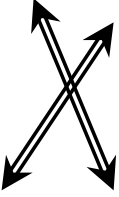
Doğruların durumlarını altlarına yazınız.



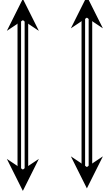
.....
.....



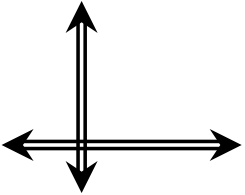
.....
.....



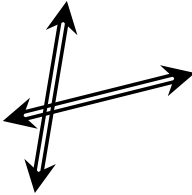
.....
.....




.....
.....



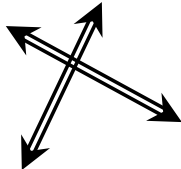
.....
.....



.....
.....



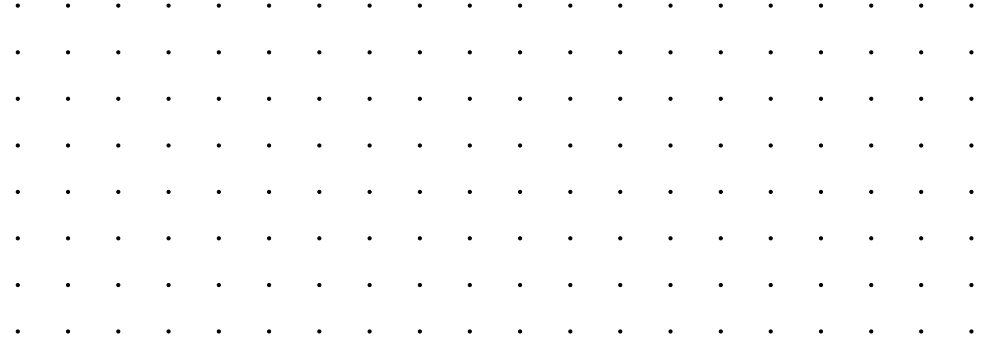
.....
.....




.....
.....

Size verilen doğru(lara) istenen doğru(ları) çiziniz. Doğruları isimlendirmeyi unutmayınız.

Paralel doğru(lar) çiziniz.



Kesişen doğru(lar) çiziniz.



Dik kesişen doğru(lar) çiziniz.

