



DESTE VE DÜZİNE


1- Aşağıdaki varlık gruplarından hangisi **bir deste** oluşturmuştur?



A) Kitaplar

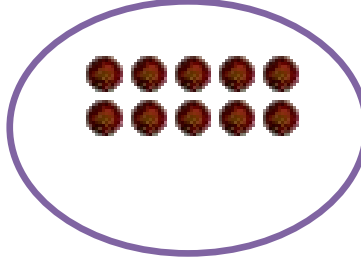
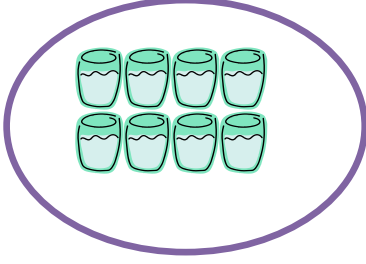


B) Kalemler



C) Silgiler

2-



Yukarıdaki varlık gruplarından hangisine **2 adet** daha eklendiğinde **1 düzine** olur?

A) Bardak Grubuna B) Yıldız Grubuna C) Top Grubuna

3- Can kalemlerinin **2 deste** olmasını istiyor. Buna göre hangi seçenekteki kalemleri alması gerekiyor?



A) 6

B) 5

C) 4

4- Aşağıdaki elmaların **1 düzine** olabilmesi için kaç elma gerekir?




A) 5

B) 7

C) 6

5- Aşağıdaki civcivlerin **2 deste** olabilmesi için kaç civciv daha gerekir?



A)

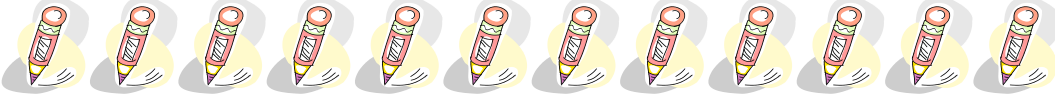
B)

C)


6- Aşağıdaki öğrencilerden hangisinin kalemleri sayısı 1 düzinedir?



Can



Ahmet



Cem

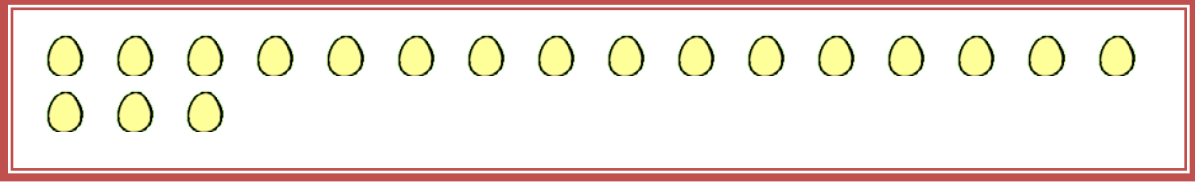


A) Can

B) Ahmet

C) Cem

7 – Aşağıdaki yumurtaların 2 düzine olabilmesi için kaç yumurta daha gereklidir?



8 - Yukarıdaki kalemlerden kaç tane çıkarılırsa geriye 1 düzine kalem kalır?



9 – Ali 'nin 1 deste balonu var. Annesi Ali'ye 5 balon verdi. Ali'nin kaç balonu oldu?

A) 6

B) 15

C) 10

10 – Dağhan'ın 1 düzine topu var. Toplarından 8 tanesini kaybetti. Dağhan'ın kaç topu kaldı?

A) 7

B) 2

C) 4

11 – Orçun'un 2 deste keki var. Keklerinin 9 tanesini yedi. Geriye kaç keki kaldı?

A) 11

B) 7

C) 29

12 – Merve'nin 2 düzine tokası var. 7 tokasını kardeşine verdi. Geriye kaç tokası kaldı?

A) 15

B) 17

C) 16